



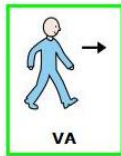
FIESTA

DE

CUMPLEDÍAS



BERTA



VA

A



CELEBRAR

QUE



CUMPLE

25

DÍAS

CON

UNA



FIESTA

PARA

SUS

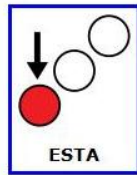


AMIGOS

.



HA ESCRITO



ESTA









INVITACIÓN









:

Estás invitad@ a mi Fiesta de cumpleaños, que celebraré hoy, si el tiempo nos lo permite.
LUGAR: prado de los Chopos, detrás de la ermita vieja.
HORA: de 16:00 a 19:00.





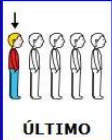


BERTA

1.  **BERTA**  **CELEBRA** **QUE**  **CUMPLE** **25**  **DÍAS** **SI**  **NACIÓ** **EL** **QUINTO**  **DÍA** **DE**

 **ABRIL**  **¿**  **QUÉ**  **DÍA**  **VA** **a**  **CELEBRAR**  **LA**  **FIESTA** **?**

a  **DÍA**  **ABRIL**
 A. **EL** **PENÚLTIMO** **DE**

b  **DÍA** **5**  **ABRIL**
 B. **EL** **DE**

c  **ÚLTIMO**  **DÍA**  **ABRIL**
 C. **EL** **DE**



2.  **¿**  **CUÁNTOS** **MINUTOS** **DURARÁ** **LA**  **FIESTA** **?**  

.....

OPERACIONES :


3. EL CIEMPIÉS PEDRÓN RECORRE 40 METROS A LA HORA .

1 METRO SON 100 CENTÍMETROS .






¿ CUÁNTOS CENTÍMETROS RECORRE EN UNA HORA ?

SI VIVE A 20 METROS DEL PRADO DE LOS CHOPOS , ¿ CUÁNTOS MINUTOS TARDARÁ EN

LLEGAR DESDE SU CASA ?



4.  BERTA  CELEBRARÁ LA  FIESTA SI EL  TIEMPO LO  PERMITE . SI  MIRAS EL

 MAPA DEL TIEMPO Y  VES  ESTOS SÍMBOLOS ¿ ?  TIEMPO VA  A  HACER

?

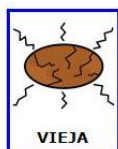

EN CADA CASO ?








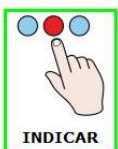
5. ¿ COMO SE LLAMA EL OBJETO QUE HAY SOBRE LA TORRE DE LA



Y QUE



PARA



LA




DEL



?


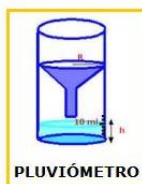
A.



B.



C.



¿



EL



SEGÚN

LA



?

.....
.....
.....



EN



ABRIL



HAY

UN REFRÁN

QUE



DICE

:

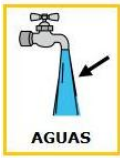
"

EN



ABRIL

6.



"



¿



QUÉ

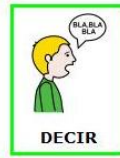


PIENSAS

QUE



QUIERE



DECIR



?

.....
.....
.....
.....



OTRO

REFRÁN



DICE

:

"

EN




ABRIL

,



AGUA



POCA

,



NUBES



1000

MIL

"



¿

POR



QUÉ



DOS

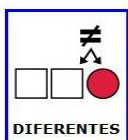
REFRANES



DICEN



COSAS



DIFERENTES

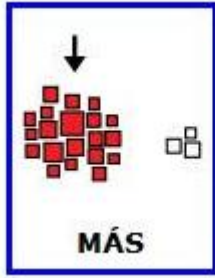


?

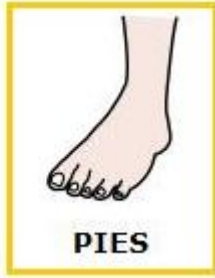
.....
.....
.....
.....



CON



MÁS



PIES

CADA FRASE :



HA PREPARADO

UNA



FIESTA

DE



CUMPLEDÍAS



TIENE


UNA



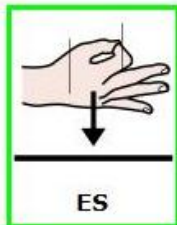
VELETA

EN

SU



TORRE



ES

EL



INVITADO

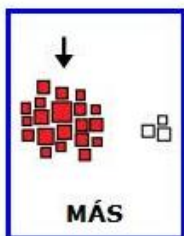
A

LA

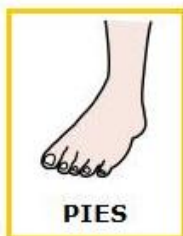


FIESTA





CON



MÁS


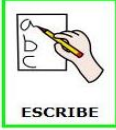

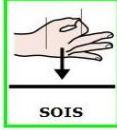
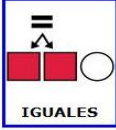

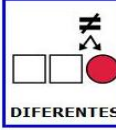


PIES

8.  REPASA LA  LISTA DE  INVITADOS DE  BERTA .  VERÁS QUE  SON MUY



 RECUERDA TU  ÚLTIMA  FIESTA DE  CUMPLEAÑOS ,  ELIGE A **2**  PERSONAS QUE

 INVITASTE Y  ESCRIBE EN  QUÉ  SOIS  IGUALES Y EN  QUÉ  DIFERENTES .

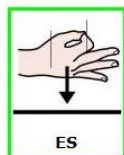
	MI AMIGO-A:	MI AMIGO-A:
ME PAREZCO EN...		
ME DIFERENCIO EN...		



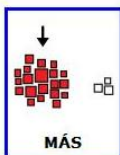
¿



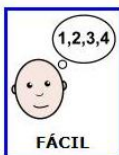
QUÉ



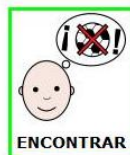
ES



MÁS



FÁCIL

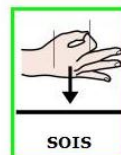


ENCONTRAR

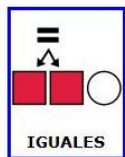


COSAS

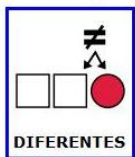
EN QUE



SOIS



IGUALES



DIFERENTES



?

CORRECCIÓN A REALIZAR POR EL PROFESOR:

	COMPETENCIA LINGÜÍSTICA	PUNTUACIÓN MÁXIMA 10	PUNTOS OBTENIDOS
	COMPETENCIA MATEMÁTICA	6	
	COMPETENCIA MUNDO FÍSICO	6	
	COMPETENCIA SOCIAL Y C.	2	
PUNTUACIÓN GLOBAL DE LA TAREA		24	

NOMBRE..... CURSO.....

COMPETENCIAS BÁSICAS: Lingüística, Matemática, Medio físico, Social y C.

CONTENIDOS: Palabras agudas y llanas. Sumas y restas de hasta 5 cifras. Estimación de resultados. Multiplicación por una cifra. El aire y la atmósfera. Instrumentos de medida.

CONTEXTO: Fiesta de cumpleaños. La tarjeta de invitación a mi fiesta. Lista de invitados.

ÁREAS IMPLICADAS: Lengua, Matemáticas, Conocimiento del medio.