





HORARIOS

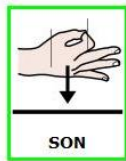
DE



VUELO



ESTOS



SON

LOS



HORARIOS

PARA



VIAJAR

DE




MADRID
MADRID

A





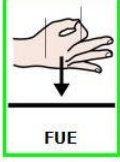



PEKÍN



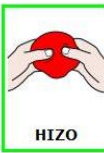
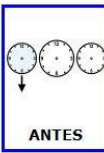


 AIR CHINA 中国国际航空公司		VUELOS PEKÍN-MADRID		
	HORA DE SALIDA	HORA DE LLEGADA	PARADAS	AVIÓN
VUELO 1	13:30	22:00	FRANKFURT	AIRBUS A330
VUELO 2	14:00	23:30	FRANKFURT	AIRBUS A330
VUELO 3	11:30	22:00	SHANGHAI FRANKFURT	BOEING 737-800
VUELO 4	7:30	19:00	SHANGHAI FRANKFURT	BOEING 737-800







1.  LI  LLEGÓ A  MADRID EN UN  BOEING

 ¿  QUÉ  NÚMERO DE  VUELO  FUE EL  SUYO ?

 ¿ A  QUÉ  HORA  ATERRIZÓ ?

 ¿ CUÁNTAS  PARADAS  HIZO  ANTES DE  LLEGAR A  MADRID ?

 ¿ CUÁNTAS  HORAS  DURÓ EL VIAJE ?



2.

25



NIÑOS



QUIEREN



VIAJAR

A



PEKÍN

EN



AVIÓN

.



HAY



HILERAS

DE

6

6



ASIENTOS

CADA



HILERA

¿

¿

SOBRAN

O

FALTAN



ASIENTOS

?

?

.....

¿

¿

CUÁNTAS

?


?

.....

3. TIENES QUE BUSCAR A UNA AMIGA QUE LLEGA DE PEKÍN EN

VUELO Nº2 . ESE VUELO HA SALIDO 2 HORAS TARDE .

¿ A QUÉ HORA IRÁS AL AEROPUERTO A BUSCARLA ?



4. EL AVIÓN DE LI LLEVABA 9 CONTENEDORES CON 8

ORQUÍDEAS CADA UNO .

¿ CUÁNTAS VENTANILLAS TIENE EL AVIÓN ?



SE



LA CAPA DE



QUE ATRAVIESAN

LOS



5.

CUANDO




?


A.



B.



C.





6.



SEÑALA

LAS CARACTERÍSTICAS DEL




AIRE

A. OCUPA ESPACIO .

B. PESA .

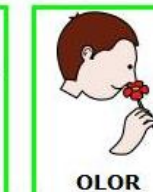


C. NO



TIENE COLOR .

D. TIENE



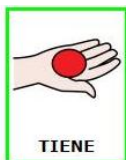
TIENE OLOR .



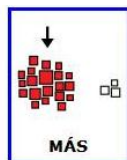
7.



MADRID



TIENE



MÁS

DE

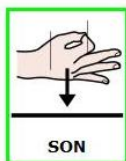
3

MILLONES DE




HABITANTES

PEKÍN Y SHANGAI



SON




CIUDADES

QUE



ESTÁN

EN



CHINA



BUSCA

EL



1 2 3

NÚMERO

DE



PERSONAS

QUE



VIVEN

EN

EN PEKÍN Y SHANGAI

EN

EN



INTERNET

<http://es.wikipedia.org/wiki/Shangh%C3%A1i>

<http://es.wikipedia.org/wiki/Pek%C3%ADn>

1 2 3
NÚMERO



DE HABITANTES DE PEKÍN

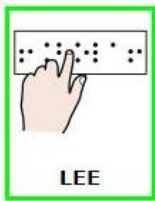
1 2 3
NÚMERO



DE HABITANTES DE SHANGAI



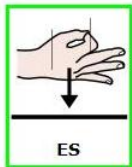
8. LEE Y BUSCA DOS casa amor mano PALABRAS AGUDAS Y DOS LLANAS :



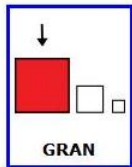
2

casa
amor
mano
PALABRAS

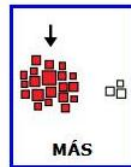
2



UNA



CON



DE

3

TRES

MILLONES DE



. "

AGUDAS:


LLANAS:

CORRECCIÓN POR EL PROFESOR:

	COMPETENCIA LINGÜÍSTICA	PUNTUACIÓN MÁXIMA	PUNTOS OBTENIDOS
	COMPETENCIA MATEMÁTICA	3	
	COMPETENCIA MUNDO FÍSICO	2	
	COMPETENCIA DIGITAL	1	
PUNTUACIÓN GLOBAL DE LA TAREA		13	

NOMBRE:

CURSO:



COMPETENCIAS BÁSICAS: Lingüística, Matemática, Mundo físico, Digital.

CONTENIDOS: Palabras agudas y llanas. Sumas y restas de hasta 5 cifras. Estimación de resultados. Multiplicación por una cifra. El aire y la atmósfera. Búsqueda de información en internet.

CONTEXTO: Horario de vuelos. Interpretar una tabla de horarios y extraer información para resolver situaciones.

ÁREAS IMPLICADAS: Lengua, Matemáticas, Conocimiento del medio.