



# HORARIOS DE VUELO B



En esta tabla tienes los horarios de vuelo de Air China para volar desde Pekín hasta Madrid. El abuelo Li vino en uno de ellos, pero... ¿en cuál?

 <b>AIR CHINA</b> 中国国际航空公司		VUELOS PEKÍN-MADRID		
	HORA DE SALIDA	HORA DE LLEGADA	PARADAS	AVIÓN
VUELO 1	13:30	22:00	FRANKFURT	AIRBUS A330
VUELO 2	14:00	23:30	FRANKFURT	AIRBUS A330
VUELO 3	11:30	22:00	SHANGHAI FRANKFURT	BOEING 737-800
VUELO 4	7:30	19:00	SHANGHAI FRANKFURT	BOEING 737-800



1. Li llegó a Madrid una noche de primavera en un Boeing ¿Qué número de vuelo fue el suyo? ..... ¿A qué hora aterrizó? ..... ¿Cuántas paradas hizo antes de llegar a Madrid? ..... **1 PUNTO** 

2. Escribe (V) verdadero o (F) falso delante de estas afirmaciones. **1 PUNTO**

- A. ( ) El vuelo 4 sale más temprano que el vuelo 3
- B. ( ) Air China es una compañía aérea
- C. ( ) El abuelo Li es el piloto del avión
- D. ( ) El vuelo 2 realiza paradas en Shanghai y Frankfurt




3. ¿Por qué crees que Air China tiene en su web esta tabla de horarios de vuelos? **1 PUNTO**



- A. Para que ningún cliente llegue tarde al avión
- B. Para dar información clara y rápida de los diferentes vuelos que hay entre Pekín y Madrid
- C. Porque a sus clientes les gustan las tablas
- D. Porque queda muy bonita en su web

4. Imagina que toda tu clase quiere volar a la ciudad de Li, Pekín, en un Airbus 330. El avión tiene libres 13 hileras de 6 asientos cada una. ¿Os sobran o faltan plazas? .....



¿Cuántas? ..... **1 PUNTO**

Haz aquí las operaciones que necesites:



5. Si tienes que ir a recoger a una amiga que llega de Pekín en el vuelo nº 1 y sabes que ese vuelo ha salido con 2 horas de retraso. ¿A qué hora irás al aeropuerto a recogerla? ..... **1 PUNTO**



Haz aquí las operaciones que necesites:



6. El avión en el que viajó Li llevaba 9 contenedores con 8 cajas de orquídeas cada uno. ¿Cuántas ventanillas tiene el avión? .....

**1 PUNTO**



7. Tu horario de clase es también una tabla. Se parece a la de los horarios de vuelo de Air China. Fíjate en las casillas y rellena la información con tu horario. Colorea cada asignatura de un color diferente. Y no te olvides de colocar también el recreo ¡Je, je! **1 PUNTO**



HORAS	LUNES	MARTES	MIÉRCOLES	JUEVES	VIERNES

8. Ahora que ya está rellena, compara tu tabla de horarios con la de los vuelos de Air China y escribe 3 cosas en las que se parezcan y 3 en las que se diferencien: **1 PUNTO**



Se parecen en:



Se diferencian en:



9. A ver si eres capaz de rellenar esta tabla. Suma las clases que tienes de cada asignatura a lo largo de la semana y ordénalas de mayor a menor. O sea la que tiene más clases primero y hasta llegar a la que menos que será la última. **2 PUNTOS**



ORDEN	ASIGNATURA/ÁREA	Número de clases
1		
2		
3		
4		
5		
6		
7		
8		
9		



Haz aquí las operaciones que necesites:

	<b>COMPETENCIA LINGÜÍSTICA</b>	<b>PUNTUACIÓN MÁXIMA</b> <b>5</b>	<b>PUNTOS OBTENIDOS</b>
	<b>COMPETENCIA MATEMÁTICA</b>	<b>5</b>	
<b>PUNTUACIÓN GLOBAL DE LA TAREA</b>		<b>10</b>	

**NOMBRE:** ..... **CURSO:** .....